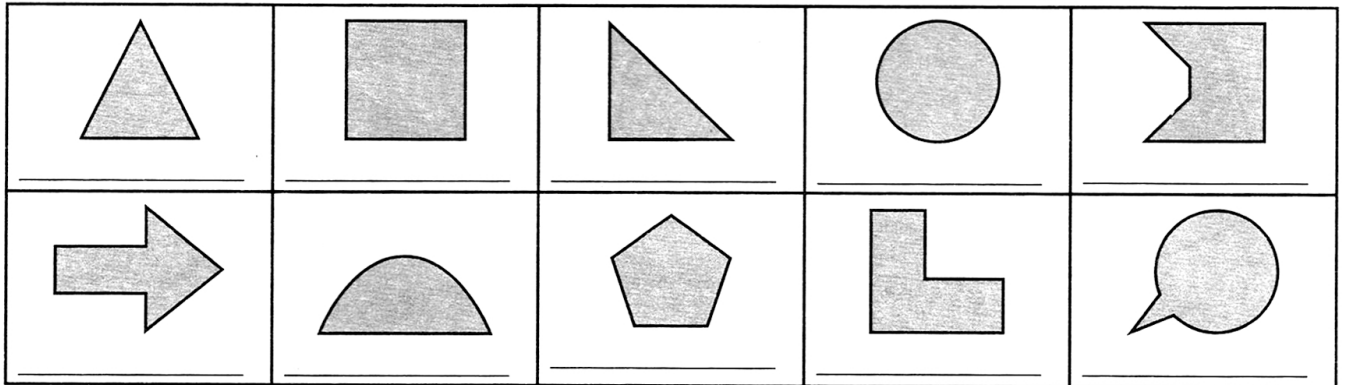
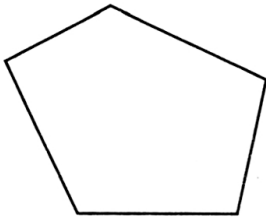


Прави агли во 2Д-форми

1 Обиди се да ги откриеш правите агли во дадените форми. Запиши го бројот на прави агли под секоја форма. За да ги откриеш правите агли користи квадрати од картон („агломер“).



2 Запиши ги буквите на многуаголникот. Дополни ги речениците да бидат точни.

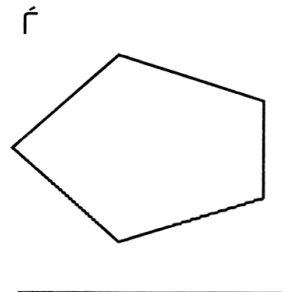
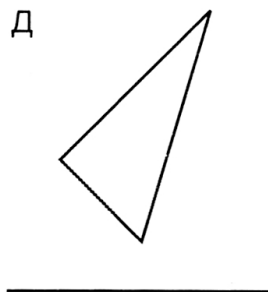
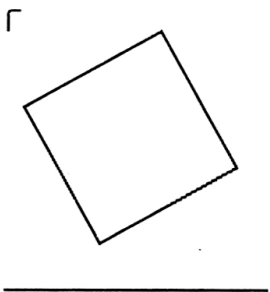
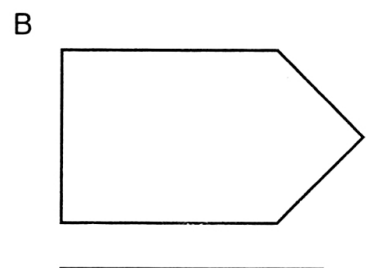
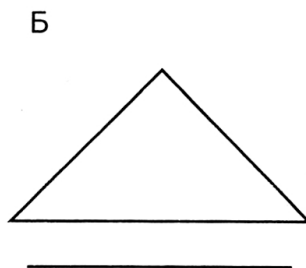
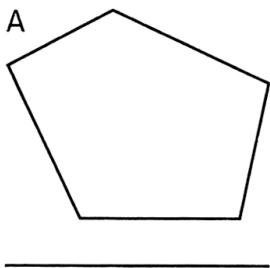


Има вкупно _____ агли.

Има _____ прави агли.

Аглите _____ се поголеми од правиот агол.

3 Користи го твојот „агломер“ за прави агли. Обележи го секој прав агол и запиши го името на секоја 2Д-форма. Колку прави агли има секоја форма?



Пополни ја табелата. Запиши ги буквите за секоја 2Д-форма.

| Својство | 2Д-форма |
|---|----------|
| Има еден прав агол | |
| Има повеќе од еден прав агол | |
| Нема прав агол | |
| Има агол или агли поголеми од прав агол | |
| Има агол или агли помали од прав агол | |