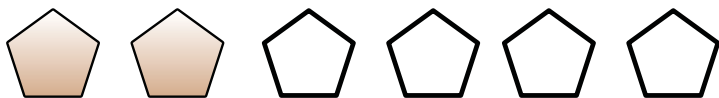




Делови од целото- друпки

1 Запиши ги одговорите во облик на друпка.

а) Колкав дел од петаголниците се обоени?



б) Колкав дел од ѕвездите се обоени?

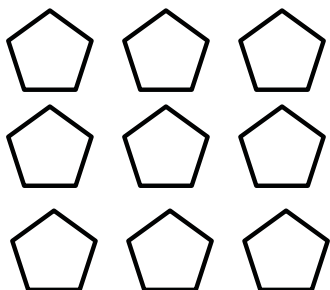


в) Колкав дел од срцата се обоени ?

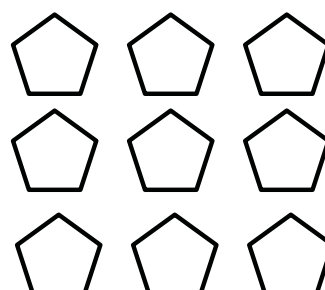


2 Обој според барањата.


$$\frac{1}{3}$$




$$\frac{2}{3}$$



$$\frac{1}{8}$$



$$\frac{4}{8}$$



$$\frac{1}{2}$$

