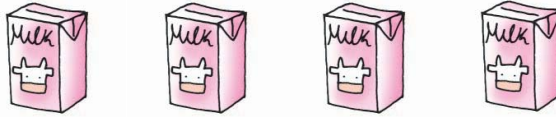




# Дел од нешто

**1** Определи половина од дадените предмети.

а)  $\frac{1}{2}$  од 4 = \_\_\_\_\_



б)  $\frac{1}{2}$  од 6 = \_\_\_\_\_

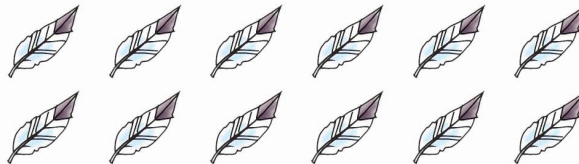


в)  $\frac{1}{2}$  од 8 = \_\_\_\_\_



**2** Определи третина од дадените предмети.

а)  $\frac{1}{3}$  од 12 = \_\_\_\_\_




б)  $\frac{1}{3}$  од 6 = \_\_\_\_\_



**3** Определи четвртина од дадените предмети.

а)  $\frac{1}{4}$  од 12 = \_\_\_\_\_



б)  $\frac{1}{4}$  од 8 = \_\_\_\_\_



в)  $\frac{1}{4}$  од 16 = \_\_\_\_\_

