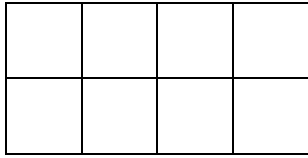




1 Пресметај ја плоштината на секој од четириаголниците, со броење на квадратчиња. Направи проверка со множење.

1)

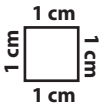
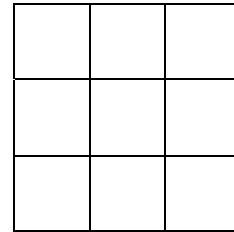


Изброив 8 квадратчиња

$$4 \cdot 2 = 8$$

Плоштината е _____ cm^2

2)

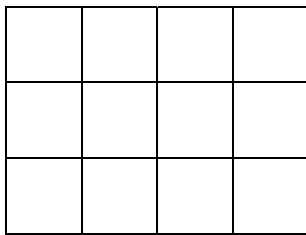


Изброив _____ квадратчиња

$$_____ \cdot _____ = _____$$

Плоштината е _____ cm^2

3)



Изброив _____ квадратчиња

$$_____ \cdot _____ = _____$$

Плоштината е _____ cm^2

4)

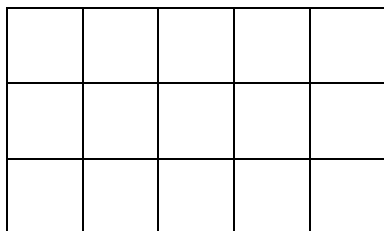


Изброив _____ квадратчиња

$$_____ \cdot _____ = _____$$

Плоштината е _____ cm^2

5)

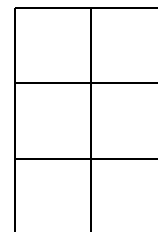


Изброив _____ квадратчиња

$$_____ \cdot _____ = _____$$

Плоштината е _____ cm^2

6)



Изброив _____ квадратчиња

$$_____ \cdot _____ = _____$$

Плоштината е _____ cm^2